

תרגיל:



$$\underline{6} + \underline{1} = \underline{7}$$





מניחים את
הכמות
המתאימה

דוגמא



הטלת קוביות

תרגיל:





_____ + _____ = _____



מדי ג'ורנו

הטלת קוביות

תרגיל:



X



=





הטלת קוביות

תרגיל:



$$\underline{\quad} + \underline{\quad} = \underline{\quad}$$





מדי ג'ורנו



הטלת קוביות

תרגיל:



_____ - _____ = _____





מדי ג'ורנו

הטלת קוביות



תרגיל:



X

=



מדי ג'ורנו



הטלת קוביות

תרגיל:

_____ + _____ = _____



מדי ג'ורנו



הטלת קוביות

תרגיל:

$$\underline{\quad} + \underline{\quad} = \underline{\quad}$$



מדי ג'ורנו