


# שאלה ביום



לפניכם שלושה שברים:

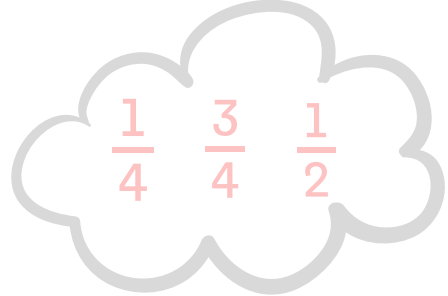


כתבו את השבר הגדול ביותר מבין  
שלושת השברים:-----

כתבו את השבר הקטן ביותר מבין  
שלושת השברים:-----



לפניכם שלושה שברים:




כתבו את השבר הגדול ביותר מבין  
שלושת השברים:-----

כתבו את השבר הקטן ביותר מבין  
שלושת השברים:-----



לפניכם שלושה שברים:




כתבו את השבר הגדול ביותר מבין  
שלושת השברים:-----

כתבו את השבר הקטן ביותר מבין  
שלושת השברים:-----



לפניכם שלושה שברים:



כתבו את השבר הגדול ביותר מבין  
שלושת השברים:-----

כתבו את השבר הקטן ביותר מבין  
שלושת השברים:-----

# שאלה ביום



שיר קיבלה דמי כיס ב- $\frac{3}{9}$  מהדמי  
כיס קנתה בגדים, ב- $\frac{4}{9}$  קנתה  
משחק מחשב.

לאיזו מטרה הוציאה סכום כסף  
גבוה יותר?

---

---

האם נישאר לשיר כסף?

---

---

מה החלק שנישאר לשיר?

---

---



רונן וגילי צבעו יחד את הגדר של  
סבתא.

רונן צבע  $\frac{2}{3}$  מהגדר.

גילי צבע  $\frac{1}{9}$  מהגדר.

האם הם סיימו לצבוע את כל  
הגדר? הסבירו

---

---

---

---

---

---



דוד אוהב לאסוף בולים, יש לו  
אלבום בולים כמעט מלא, הוא  
הצליח למלא  $\frac{8}{10}$  מהאלבום.

מה החלק שנישאר לדוד למלא  
באלבום?

---

---

---

---

---



רומי קיבלה במתנה את הספר  
אהוב עליה.

ביום הראשון קראה  $\frac{3}{8}$  מהספר.

ביום השני קראה  $\frac{1}{2}$  מהספר.

כמה חלקים שיר קראה ביומיים?

---

---

מה החלק שנישאר לרומי לקרוא?

---

---

---

---